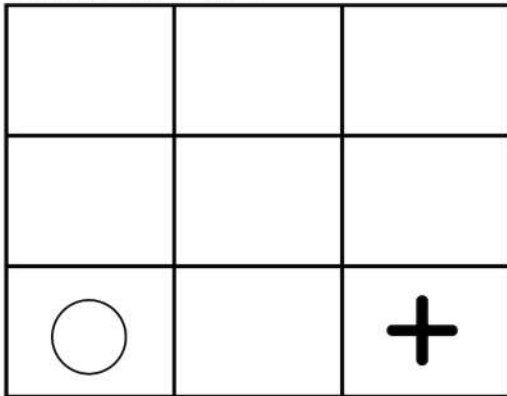


# 図形の回転3

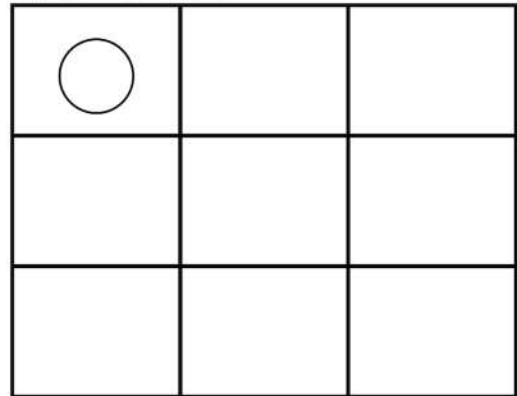
なまえ

ひだりの ずけいを やじるしに  
かいてんさせたら ずけいはどうなりますか？  
みぎがわに かいてみましょう

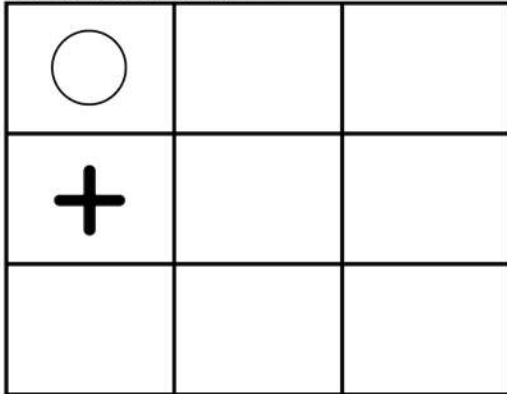
ひだりのずけい



みぎのずけい



ひだりのずけい



みぎのずけい

