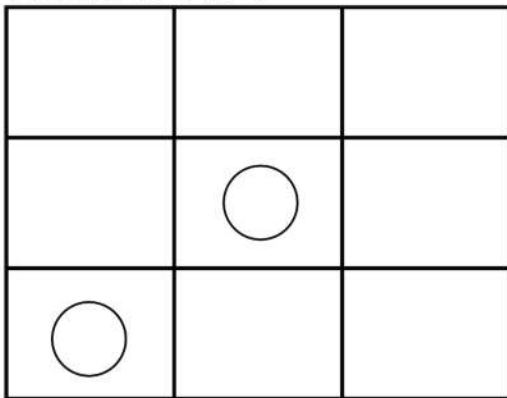


図形の回転2

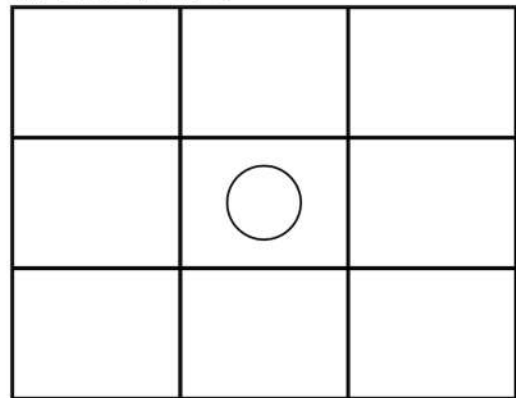
なまえ

ひだりの ずけいを やじるしに
かいてんさせたら ずけいはどうなりますか？
みぎがわに かいてみましょう

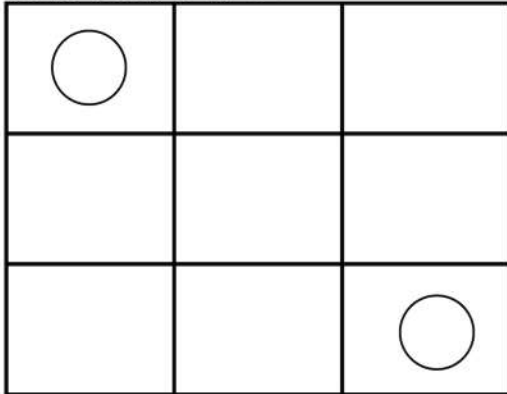
ひだりのずけい



みぎのずけい



ひだりのずけい



みぎのずけい

