

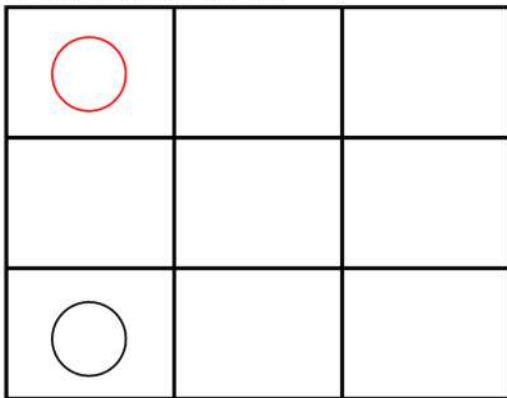
# 図形の回転1

なまえ

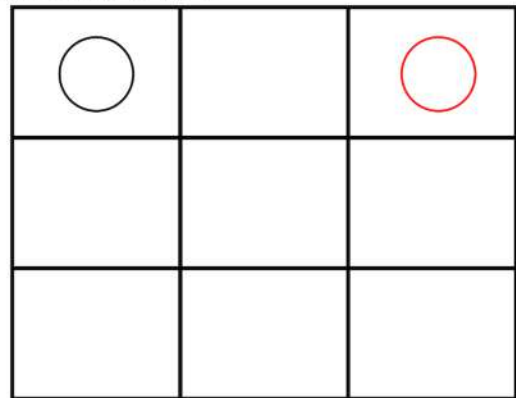
ひだりの ずけいを やじるしに  
かいてんさせたら ずけいはどうなりますか？  
みぎがわに かいてみましょう

(例)

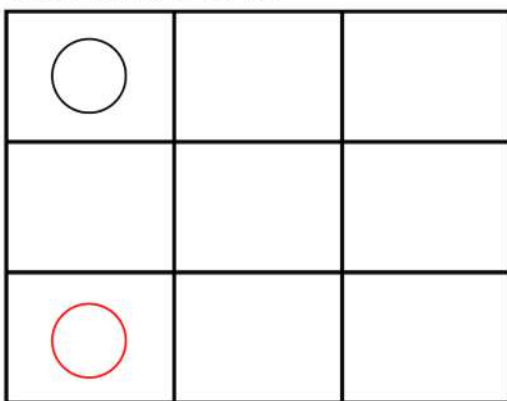
ひだりのずけい



みぎのずけい



ひだりのずけい



みぎのずけい

